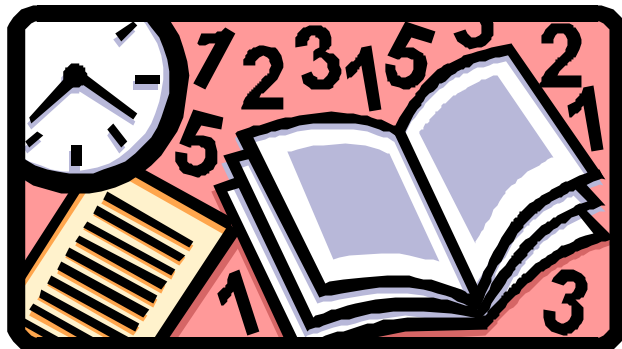


PRUEBA DE EVALUACIÓN INICIAL: MATEMÁTICAS



3º Primaria

NOMBRE DEL ALUMNO/A: _____

TUTOR/A: _____

FECHA: _____

COLEGIO : _____

LOCALIDAD: CHIPIONA



REALIZADO POR:
GRUPO DE TRABAJO DE JEFES DE ESTUDIOS DE CHIPIONA
DEL CENTRO DE PROFESORADO DE JEREZ.



DELEGACIÓN DE EDUCACIÓN DEL
ILMO. AYUNTAMIENTO DE CHIPIONA

$$\underline{\quad} > \underline{\quad} > \underline{\quad} > \underline{\quad} > \underline{\quad}$$

b) Ordena de menor a mayor:

$$413 - 341 - 862 - 143 - 200$$

$$\underline{\quad} < \underline{\quad} < \underline{\quad} < \underline{\quad} < \underline{\quad}$$

CÁLCULO

1.- Haz las cuentas:

$$\begin{array}{r} 16 \\ + 55 \\ \hline \end{array}$$

$$\begin{array}{r} 869 \\ + 123 \\ \hline \end{array}$$

$$\begin{array}{r} 32 \\ + \\ \hline 589 \end{array}$$

$$\begin{array}{r} 300 \\ + 205 \\ \hline \end{array}$$

2.- Realiza:

$$\begin{array}{r} 7 \\ + 0 \\ \hline 6 \end{array}$$

$$\begin{array}{r} 7 \\ + 8 \\ \hline 9 \end{array}$$

$$\begin{array}{r} 800 \\ + \\ \hline 303 \\ \hline 8 \end{array}$$

$$\begin{array}{r} 14 \\ + 150 \\ \hline \\ \hline + 70 \end{array}$$

3.- Haz estas cuentas:

a)
$$\begin{array}{r} 39 \\ - 14 \\ \hline \end{array}$$

b)
$$\begin{array}{r} 86 \\ - 19 \\ \hline \end{array}$$

c)
$$\begin{array}{r} 304 \\ - 150 \\ \hline \end{array}$$

4.- Realiza:

$$39 = 30 + \underline{\quad}$$

$$300 + \underline{\quad} + 5$$

$$14 = \underline{\quad} + 4$$

$$325 = \underline{\quad}$$

5.- Completa:

$$97 - 15 = \underline{\hspace{2cm}} \quad 763 - 91 = \underline{\hspace{2cm}} \quad 108 - 20 = \underline{\hspace{2cm}}$$

6.- Pon el número que falta:

$$2 + 2 + 2 = 3 \times \underline{\hspace{2cm}} \quad 6 + 6 = \underline{\hspace{2cm}}$$

$$\underline{\hspace{2cm}} \times 6$$

PROBLEMAS




1.- Perico tiene 4 billetes:



¿ Cuántas euros tiene?

Tiene euros

Mira el escaparate

 500 euros	30 euros 	150 euros 
--	---	---

2.- Perico compra una bicicleta y una moto: ¿ Cuántos euros paga?

Paga euros

3.- ¿Cuánto valen 3 pelotas?

Valen _____

euros

4.- Loli tiene 90 euros. ¿ Cuánto le falta para comprarse la bicicleta?

Le faltan _____

euros

5.- Pepito tiene 700 euros. ¿ Cuánto le sobra si se compra la moto?

Le sobran _____ euros